

**Региональная заочная олимпиада школьников по географии
2015/2016 учебного года**

10-11 классы

Задания первого раунда

- **Задание включает 5 задач.**
- **Максимальная оценка за решение одной задачи (правильный и полный ответ) – 10 баллов.**
- **Максимальная общая сумма баллов за решение всех задач – 50.**
- **Ответ на каждую задачу записывайте на новом листе. Не забудьте указать № задачи.**

Задача 1.

1. Определите, о какой стране идёт речь. Назовите столицу.

«Это государство – остров в море. Население составляет около 700 тысяч жителей. Бывшая британская колония. Национальный состав представлен двумя народами, составляющими соответственно $\frac{3}{4}$ и $\frac{1}{5}$ населения страны. Главная статья экспорта страны – цитрусовые. На острове ведется добыча железных руд. Активно действуют международные банки. Остров привлекает многочисленных туристов из-за рубежа».

2 балла

2. Какая из мировых религий самая древняя? Какая страна является её родиной?

2 балла

2. Найди в рассказе географические ошибки.

«По небу плыли белые кучевые облака, но вдруг полил сильный дождь. Громадная волна – цунами – то поднимала нас, то бросала в бездну. Вскоре море успокоилось. Наш вахтенный сообщил, что корабль следует по своему курсу, приближаясь к Антарктиде. Ночью яркая Полярная звезда была ориентиром. Увидев остров, мы решили выйти на берег и набрать пресной воды; но не успели сделать несколько шагов, как увидели белого медведя. Высадившись в другом месте, мы направились к лесу, в котором нашли родник и набрали пресной воды».

6 баллов

Задача 2.

1. Установи соответствие между именами русских исследователей, объектами и датами их открытий:

- | | | |
|----------------------|----------------|---------------------------------|
| А) Н.М. Пржевальский | 1) 1648 г. | I. Северный морской путь. |
| Б) С.И. Дежнёв | 2) 1639 г. | II. Берега Охотского моря. |
| В) О.Ю. Шмидт | 3) 1867-69 гг. | III. Крайний вост. мыс Евразии. |
| Г) И.Ю. Москвитин | 4) 1932 г. | IV. Уссурийский край. |

6 баллов

2. Найди соответствие между регионом России и получаемым им годовым количеством суммарной солнечной радиации:

- | | |
|---------------------------|--------------------------------------|
| 1) Свердловская область; | А) От 70 до 80 ккал/см кв. в год; |
| 2) Московская область; | Б) От 80 до 90 ккал /см кв. в год; |
| 3) Ленинградская область; | В) От 90 до 100 ккал./ см кв. в год; |
| 4) Краснодарский край; | Г) От 110 до 120 ккал./см кв. в год. |

4 балла

Задача 3.

1. Во время Великой Отечественной войны из Харькова в Рубцовск (Алтайский край) был эвакуирован тракторный завод. Укажи не менее трёх причин его эвакуации в этот город.

3 балла

2. В 80-е гг. XX века в Тобольске и Томске были сооружены крупные нефтехимические комбинаты. Комбинат в Тобольске специализируется на

производстве синтетического каучука, в Томске – синтетических смол. Чем обусловлено их сооружение в этих городах?

3 балла

3. По краткому описанию определи город Поволжского района.

«Город, расположенный на реке Волге, с населением более 1 млн человек имеет богатую многовековую историю. Это столица республики в составе России. Он является одним из крупнейших центров образования и науки страны, а также мощным промышленным и транспортным узлом».

1 балл

4. Выбери три верных утверждения об Уральском экономическом районе.

- 1) Уральские горы представляют собой складчатую область герцинского возраста. Предуралье и Зауралье – плиту древней платформы.
- 2) Подавляющую часть территории района занимает природная зона тайги.
- 3) Население района многонационально, коренные народы относятся к тюркской и финно-угорской языковым группам.
- 4) Черная и цветная металлургия района использует исключительно местное сырьё.
- 5) Наиболее разнообразная отраслевая структура сельского хозяйства характерна для южной части Предуралья.
- 6) Преобладающая часть перевозимых в районе грузов является транзитной.

3 балла

Задача 4.

На какие виды подразделяются свободные экономические зоны мира? Приведите примеры по каждому виду.

10 баллов

Задача 5.

Оцените географическое положение своей местности и приведите конкретные примеры его влияния:

- на природу;
- на хозяйственную специализацию;
- на занятия населения.

10 баллов

**Региональная заочная олимпиада школьников по географии
2015/2016 учебного года**

10-11 классы

Задания второго раунда

- **Сумма баллов за все правильные ответы на тесты (часть 1) – 30.**
- **Сумма баллов за все правильные ответы на вопросы по карте (часть 2) – 20.**
- **Общая сумма баллов за ответы на тесты и на вопросы по карте – 50.**

1. Кто является в настоящее время председателем Русского географического общества?
 - А. Шойгу С.К.
 - Б. Путин В.В.
 - В. Медведев Д.А.
 - Г. Наумов А.С.
2. Как называется изображение небольшого участка земной поверхности на плоскости в уменьшенном виде при помощи условных знаков?
 - А. рисунок
 - Б. карта
 - В. аэрофотоснимок
 - Г. глобус
3. Определите масштаб плана местности, если улица длиной 500 метров, изображенная на нем, равна 5 см.
 - А. 1: 10 000
 - Б. 1:5 000
 - В. 1:2 000
 - Г. 1:1 000
4. Какой стороне горизонта соответствует азимут 90 °?
 - А. северу
 - Б. западу
 - В. югу
 - Г. востоку
5. Какой азимут соответствует направлению на северо-восток?
 - А. 0 °
 - Б. 135 °
 - В. 45 °
 - Г. 180 °
6. В каком городе России 22 июня в 0 часов можно увидеть Солнце на севере?
 - А. в Санкт-Петербурге
 - Б. в Мурманске
 - В. в Москве
 - Г. в Чите

7. Выбери правильный ответ. Самая большая разница во времени существует между городами:
- А. Калининградом и Читой;
 - Б. Мурманском и Волгоградом;
 - В. Санкт-Петербургом и Екатеринбургом;
 - Г. Воронежем и Архангельском.
8. Для щитов древних платформ характерны месторождения:
- А. железных руд;
 - Б. полиметаллических и оловянных руд;
 - В. нефти и природного газа;
 - Г. калийных солей и серы.
9. К горам альпийской складчатости в России относятся:
- А. Уральские;
 - Б. Саяны;
 - В. Кавказ;
 - Г. Алтай.
10. Как называется полезное ископаемое осадочного происхождения, состоящее из минерала, называемое геологами галитом?
- А. слюда
 - Б. природный газ
 - В. поваренная соль
 - Г. каменный уголь
11. Выбери правильный ответ. Экспедиция Е.П. Хабарова (1649-1653 гг.) проходила по территории:
- А. Приамурья;
 - Б. Чукотского полуострова;
 - В. Колымского нагорья;
 - Г. полуострова Таймыр.
12. Выбери самое глубокое море бассейна Атлантического океана, омывающее территорию России.
- А. Балтийское
 - Б. Берингово
 - В. Азовское
 - Г. Чёрное
13. Сколько килограммов соли можно получить из 5 тонн морской воды Чёрного моря (солёность 18‰) ?
- А. 195 кг
 - Б. 39 кг

В. 108 кг

Г. 90 кг

14. Выбери правильный ответ. Среди перечисленных морей, омывающих территорию России, самым тёплым является:

А. Чёрное;

Б. Берингово;

В. Охотское;

Г. Баренцево.

15. Из-за высокого атмосферного давления повышением артериального давления страдает население:

А. Красноярска и Иркутска;

Б. Москвы и Санкт-Петербурга;

В. Краснодара и Ростова на Дону;

Г. Мурманска и Архангельска.

16. Туристам, отправляющимся в июле на Кольский полуостров, понадобятся следующие вещи:

А. зимнее пальто и шерстяная шапка;

Б. тёплый свитер и плащ;

В. футболка и шорты;

Г. купальные принадлежности и солнцезащитные очки.

17. Какое место в мире занимает Россия по численности населения?

А. пятое

Б. восьмое

В. девятое

Г. десятое

18. Наибольшая доля людей в трудоспособном возрасте наблюдается:

А. в Вологодской и Тульской областях;

Б. в Республиках Дагестан и Тыва;

В. в Республиках Удмуртия и Мордовия;

Г. в Ханты-Мансийском и Ямало-Ненецком АО.

19. Больше всего городов-миллионеров:

А. на Дальнем Востоке;

Б. в Центральной России;

В. на Северном Кавказе;

Г. на Урале и в Поволжье.

20. Доля пастбищ наиболее велика в структуре сельскохозяйственных угодий:

- А. Краснодарского края;
- Б. Пензенской области;
- В. Республики Калмыкия;
- Г. Курской области.

21. Определи субъект Российской Федерации по его краткому описанию: «Широким фронтом он выходит к морю, имеет сухопутную границу с иностранным государством, расположен преимущественно в природной зоне степей. Здесь выращивают пшеницу, подсолнечник, кукурузу на зерно, рис и виноград. Развито свиноводство, овцеводство, мясо-молочное скотоводство».

- А. Республика Калмыкия
- Б. Тамбовская область
- В. Ставропольский край
- Г. Краснодарский край

22. Промышленные лесозаготовки практически не ведутся в экономическом районе:

- А. Северо-Кавказском;
- Б. Восточно-Сибирском;
- В. Дальневосточном;
- Г. Северном.

23. Какие из перечисленных государств обеспечены практически всеми известными ресурсами?

- А. Россия, Япония, США
- Б. США, ЮАР, Бразилия
- В. Россия, США
- Г. Австралия, Индонезия

24. Выберите верный ответ. Главный путь решения проблемы чистой пресной воды:

- А. транспортировка айсбергов;
- Б. экономия воды в быту и на производстве;
- В. обратное водоснабжение;
- Г. переброска речных стоков.

25. Выберите верный ответ. Наиболее развита гелиоэнергетика:

- А. в России, Великобритании;
- Б. в Италии, Бразилии;
- В. в Германии, Норвегии;
- Г. в США, Франции.

26. Выберите верное утверждение:

А. демографический взрыв характерен прежде всего для развитых стран;

Б. лидерство по численности населения принадлежит Индии;

В. для первой фазы демографического перехода характерны высокая рождаемость и высокая смертность;

Г. демографическая политика развитых стран направлена на повышение рождаемости.

27. С начала XXI века официальными языками ООН являются:

А. английский, французский, русский, китайский, арабский;

Б. английский, немецкий, французский;

В. английский, французский, немецкий, испанский;

Г. английский, китайский, русский.

28. Выберите верный ответ. К странам, составляющим Евразийский Союз, относятся:

А. Россия, Украина, Казахстан;

Б. Россия, Абхазия, Белоруссия;

В. Россия, Белоруссия, Казахстан;

Г. Россия, Украина, Молдавия.

29. Выберите верное утверждение:

А. Китай – мировой лидер по производству автомобилей;

Б. Тибет – одна из наиболее развитых в экономическом отношении территорий КНР;

В. Китай имеет аграрно-сырьевую направленность экономики;

Г. Китай – высоко урбанизированная страна.

30. Ведущими центрами мировой экономики сегодня являются страны:

А. США, Западная Европа, Канада, Япония;

Б. США, Западная Европа, Китай, Япония;

В. США, Западная Европа, Индия;

Г. США, Западная Европа, Китай, Индия.

Часть 2.

Вопросы по карте

Внимание! Для ответа на следующие вопросы используйте карту, которая прилагается к заданию (Приложение 1)

Блок 1. На что указывают стрелки табличек под буквами А, Б, В, Г? Дайте более подробное описание.

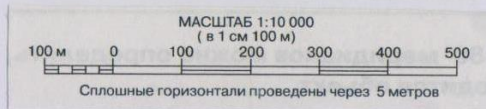
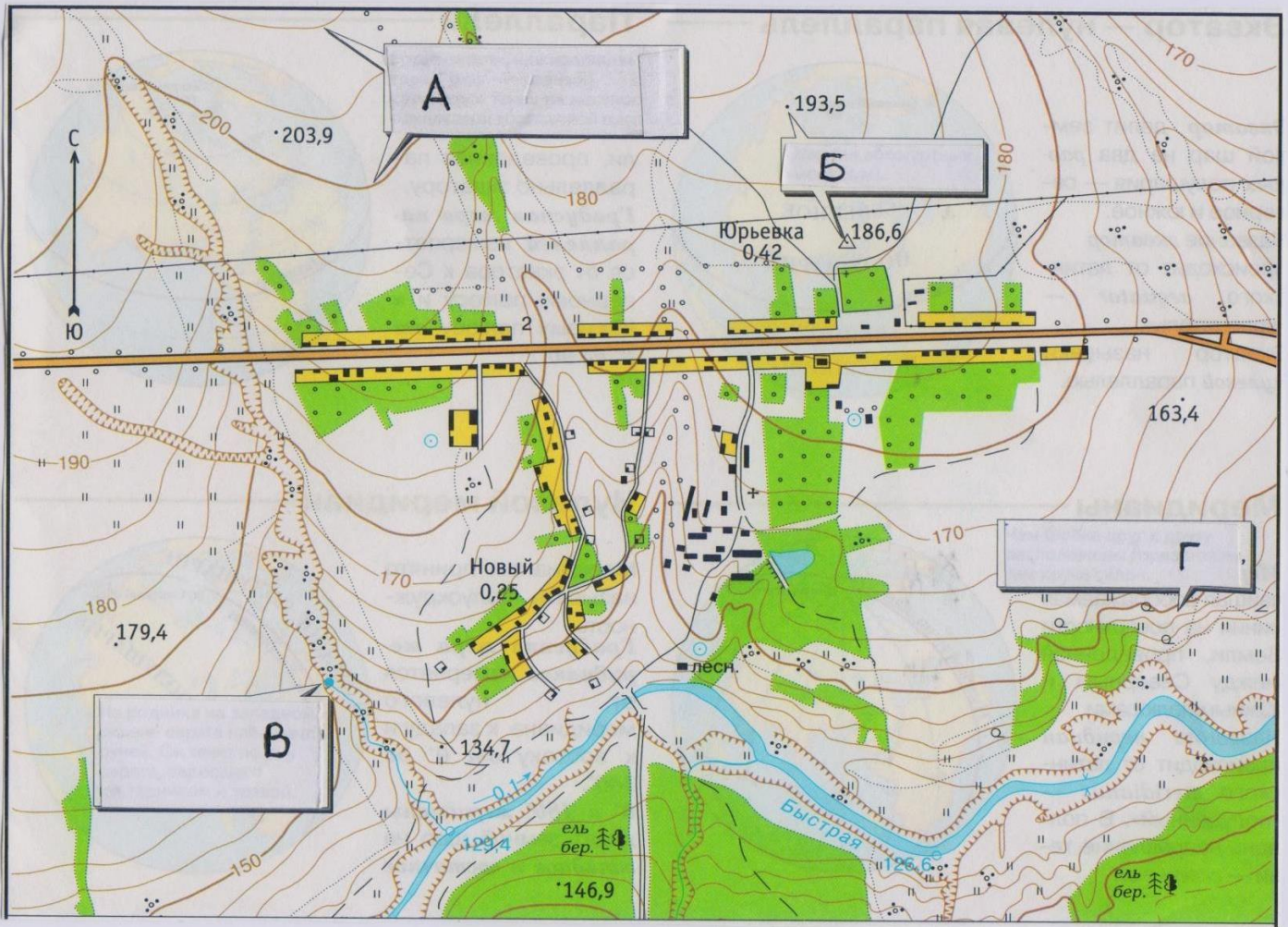
Блок 2. 1) Какая местность изображена на топографической карте?
2) Укажи наибольшую её высоту.
3) В какой части карты находится эта точка?
4) Какие формы рельефа можно увидеть на этой карте? В каких частях карты они расположены?

Блок 3. 1) Какие элементы гидрографической сети можно наблюдать на данной карте? В каких частях карты они расположены?
2) Дайте описание наиболее крупного гидрографического объекта, используя условные знаки.

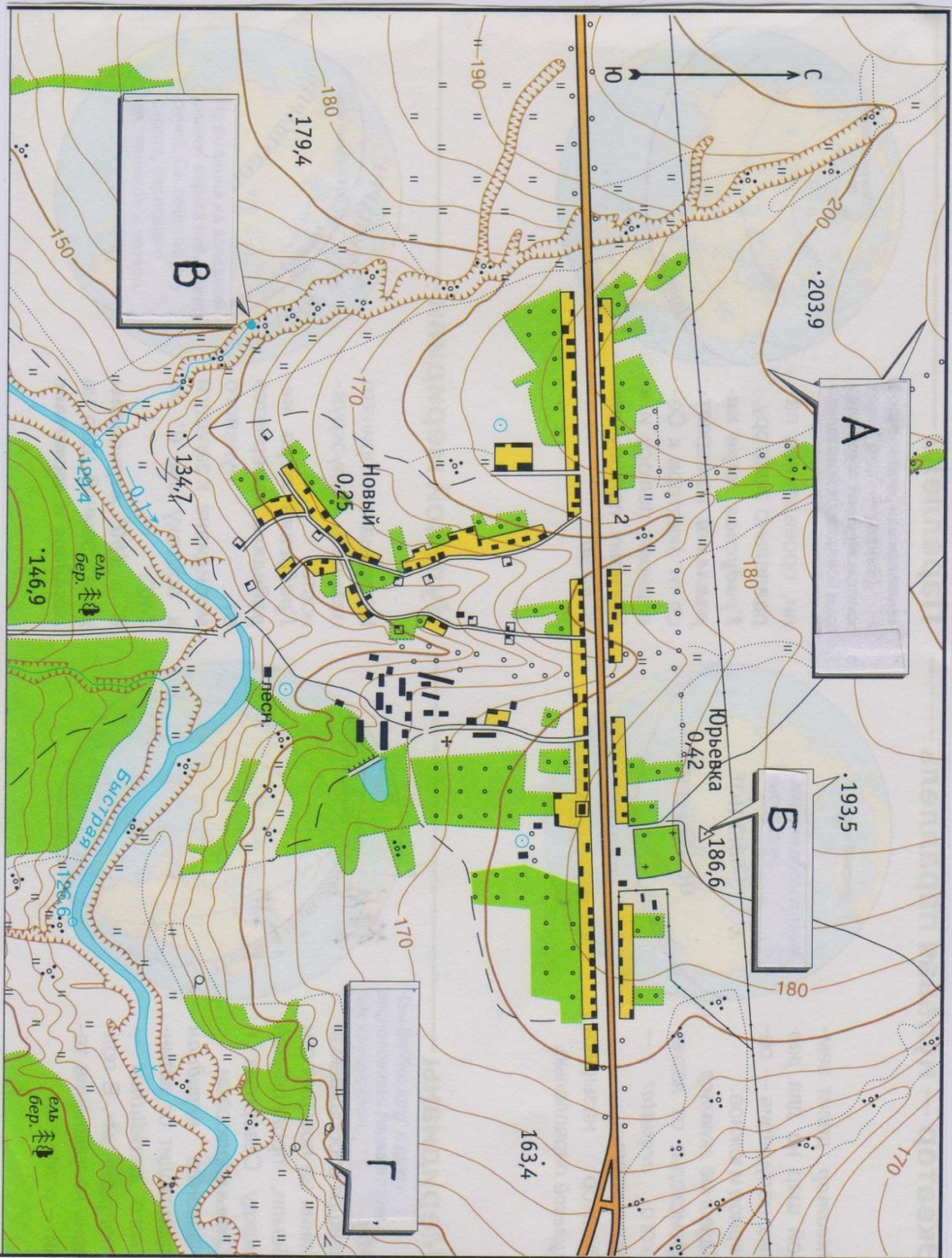
Блок 4. Какая растительность произрастает в данной местности? Где можно увидеть каждый тип растительности на карте?

Блок 5. 1) Какие населенные пункты изображены? Где они расположены на карте? Какое количество жителей в каждом населенном пункте?
2) Дайте описание дорожной сети данной местности.

Приложение 1.



Приложение 1.



МАСШТАБ 1:10 000
(в 1 см 100 м)
Сплошные горизонтали проведены через 5 метров